

۱۱- در جای خالی عدد مناسب بگذارید.

$$\frac{4}{5} = \frac{\quad}{10}$$

$$\frac{4}{12} = \frac{2}{\quad}$$

$$\frac{4}{4} = \square$$

$$\frac{\quad}{6} = \square$$

۱۲- یک باغدار ۱۶ کیسه کود شیمیایی را که وزن هر کدام ۴۵ کیلوگرم بود خرید. او چند کیلو گرم کود خریده است

۱۳- ضرب زیر را روی محور نشان دهید

$$\times \frac{2}{5} =$$



$$740 \times 1000 =$$

$$23 \times 20 =$$

$$= 631$$

۱۴- ضرب های زیر را انجام دهید

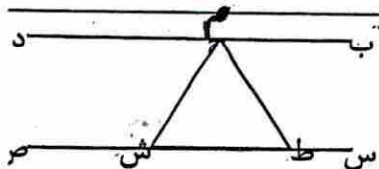
$$\times 301$$

۱۵- مریم ۱۲ سال سن دارد. سن مادر مریم از ۳ برابر سن او ۶ سال بیشتر است سن مادر مریم چند سال است ؟

$$905 \overline{) 6}$$

$$4425 \overline{) 63}$$

۱۶- تقسیمات زیر را انجام دهید و رابطه یکی از آنها را بنویسید



۱۷- با توجه به شکل به سوالات پاسخ دهید

الف) دوخط (ب د) و (س ص) نسبت به هم چه حالتی دارند


ب) یک زاویه باز نام ببرید

ج) یک زاویه تند نام ببرید

۱۸/۲

۱۸- اعداد اعشاری زیر را به حروف یا رقم بنویسید

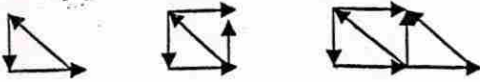
صد و بیست و هفت و چهار دهم



۱۹- مساحت قسمت رنگ شده را به دست آورید

۲۰- استخری داریم به شکل متوازی الاضلاع که قاعده آن ۵ متر و ارتفاع آن ۹ متر است مساحت این استخر چقدر است ؟

۱- با توجه به الگوی زیر شکل ششم از چند چوب کبریت درست شده است



۲- با توجه به عدد روبه رو به سوالات پاسخ دهید

(الف) این عدد چند رقمی است ؟

(ب) عدد را به حروف بنویسید

(ج) بزرگترین مرتبه چه عددی است ؟

(د) عدد ۸ در چه مرتبه ای قرار دارد ؟

(و) بزرگترین عدد در چه مرتبه ای است ؟

(ه) صدگان هزار این عدد چیست ؟

۷۸۵۹۲۶۴۳

۳- با رقم های (۶، ۱، ۰، ۷، ۴) کوچکترین و بزرگترین عدد را بنویسید.

۴- در جای خالی علامت مناسب بگذارید

$$\frac{1}{12} \square \frac{1}{11}$$

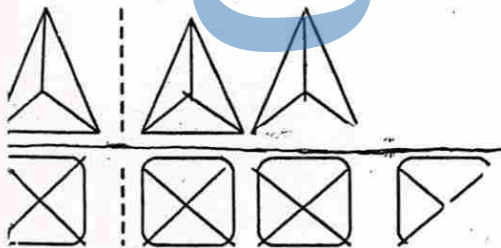
$$\frac{7}{3} \square \frac{7}{15}$$

$$\frac{3}{5} \square \frac{1}{5}$$

$$\frac{9}{10} \square \frac{4}{5}$$

$$\frac{4}{4} \square \frac{1}{2}$$

۵- کسر  $\frac{2}{11}$  را روی شکل نشان دهید



۶- عدد مخلوط شکل های زیر را بنویسید

$$\frac{3}{2} + \frac{0}{4} =$$

$$\frac{5}{8} - \frac{1}{7} =$$

۷- جمع و تفریق عبارت های زیر را بنویسید

$$\frac{5}{12} + \frac{2}{12} =$$

$$\frac{3}{18} - \frac{2}{9} =$$

$$\frac{2}{3}$$

$$\frac{8}{7}$$

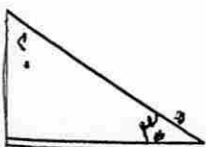
$$+ \frac{7}{9}$$

$$- \frac{3}{4}$$

۸- زهرا دیروز  $\frac{7}{20}$  کتاب خود را خوانده است و امروز  $\frac{1}{5}$  آن را نیز خوانده است. زهرا چه کسری از کتاب خود را خوانده است ؟ چه کسری از کتاب او باقی مانده است ؟

۹- عبارت  $\frac{2}{5} = \frac{4}{10}$  را روی شکل نشان دهید

۱۰- اندازه زاویه های خواسته شده را به دست آورید



This document was created with Win2PDF available at <http://www.win2pdf.com>.  
The unregistered version of Win2PDF is for evaluation or non-commercial use only.  
This page will not be added after purchasing Win2PDF.

جزوه سیستمی