

سازمان ملی آموزش و پرورش مشهد
تاسیس ۱۳۷۲

۱- به توجه به عدد داده شده به سئوالا ت زیر پاسخ دهید.

۵۷۰۸۹۴۱

الف) عدد را به حرف بنویسید.

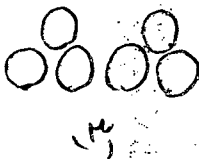
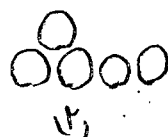

ب) ارزش مکانی کدام رقم بیش تر است؟

ج) کوچک ترین رقم در چه مرتبه ای قرار دارد؟

د) رقم های طبقه ی میلیون را بنویسید.


۲- با توجه به انگوی داده شده، آن ها را از بزرگ به کوچک

۲۸۰۰۰ ، ۲۹۰۰۰ ، ۲۶۰۰۰ ، ۲۷۰۰۰ ، ۲۴۰۰۰



(۴)

(۵)



۳- در جاهای خالی عدد های مناسب بنویسید.

$۲۰۰ \times \dots = ۱۸۰۰۰$

$۵ \times \frac{۷}{۱۰۰} = \dots$

$\frac{۱}{۴}$ ساعت = دقیقه

$\frac{۱}{۵}$ ساعت = دقیقه

$\frac{۸۰}{۸۰} = \dots$

$\frac{۵}{۱۰۰۰} = \dots$

$۳۴۰ \times ۲۰۰ = \dots$


۴- در جاهای خالی علامت < > = بگذارید.

$\frac{۱}{۷} \bigcirc \frac{۲}{۱۴}$

$\frac{۲}{۱۱} \bigcirc \frac{۵}{۲۲}$

$\frac{۲}{۳} \bigcirc \frac{۱۰}{۱۵}$

$\frac{۵}{۶} \bigcirc ۱$

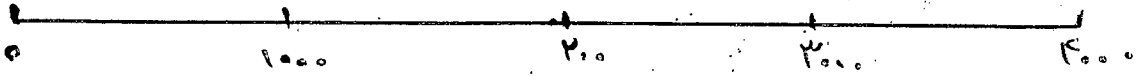


۵- برای شکل ۳ کسر مساوی بنویسید.

۶- بزرگ ترین عدد شش رقمی غیر تکراری را بنویسید که فرد باشد و یکانه و دهگان هزار آن صفر باشد.

ساحیه یک آموزش و پرورش مشهد
تاسیس ۱۳۷۳

۷- اعداد مقابل را به صورت تقریبی روی محور نشان دهید: ۱۷۵۰ - ۲۳۱۰ - ۹۴۵ - ۴۹۲



۸- $\frac{4}{6}$ شکل را رنگ کنید.
 چه کسری از شکل رنگ شده است؟

۹- در یک باغچه ی گل کاری شده $\frac{45}{100}$ با گل میخک و $\frac{2}{10}$ آن را گل بنفشه کاشته اند.
 الف) چه کسری از باغچه گل کاری شده است؟
 ب) چه کسری از باغچه مانده است؟

۱۰- کمترین امداد ۸۵۵ کسری ۲۴ کیلوگرم برنج را به نیازمندان داده است.
 چند کیلوگرم برنج به نیازمندان داده نشده است؟

۱۱- یک جعبه ی شکلات ۵۰ ریفی ۶ تایی شکلات دارد. $\frac{2}{3}$ این شکلات ها خورده شد.
 شکلات هر کودک؟

۱۲- عدد ها را تقریب بنویسید:
 ۲۳۸۵ هزارگان →
 ۴۷۶۰ هزارگان →
 ۴۲۸ دهگان →
 ۴۳۹۲ صدگان →
 ۶۴۲ دهگان →

۱۳- در جاهای خالی عددهای مناسب بنویسید.
 $\frac{2}{5} = \frac{1}{\quad}$
 $\frac{90}{180} = \frac{3}{18}$
 $\frac{54}{72} = \frac{6}{\quad} = \frac{\quad}{12}$