

۱- گزینه درست را با علامت تیک مشخص کنید.

الف) ورزش و تفریح در کدام یک از مکان های عمومی برگزار می شود؟

ا) مسجد (۲) پارک (۳) مدرسه (۴) مجتمع فرهنگی و هنری

ب) اداره شهر بر عهد چه کسی است؟

۱) دهیار (۲) شورا (۳) شهردار (۴) بخشدار

ج) کدام رشته کوه در شرق قرار دارد؟

۱) البرز (۲) زاگرس (۳) دنا (۴) سلیمان

د) هخامنشیان چند سال بر ایران حکومت کردند؟

۱) ۵۰۲ (۲) ۱۰۰ (۳) ۱۵۰ (۴) ۲۰۰

۲- درست یا نادرست بودن جمله های زیر را مشخص کنید.

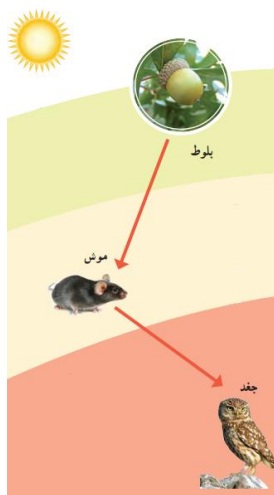
الف) کشور ایران ۲۸ استان دارد.

ب) سال ایرانی از روزاول فروردین آغاز می شود و در آخرین روز اسفندبه پایان می رسد.

ج) کتاب مقدس زرتشتیان انجیل است.

د) اولین ابزارهای انسان بیشتر چوب بود.

۴- تصویر رو به رو چه چیزی را نشان می دهد.



الف) در این زیستگاه موش دانه ی بلوط را می خورد و جغد موش را می خورد.

حال اگر در این ناحیه گیاه بلوط از بین برود چه اتفاقی می افتد؟

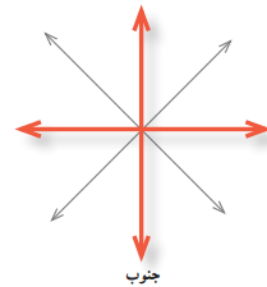
۵- در تصاویر رو به رو مکان خواسته شده را روی شکل نشان دهید؟



قطب شمال، قطب جنوب



قله



جهت های اصلی و فرعی
جغرافیایی

۶- در جاهای خالی کلمه مناسب بنویسید.

الف) پولی که از راه کارکردن به دست می آید..... می گویند
ب) وسیله ای که جهت قطب شمال و جنوب زمین را نشان می دهد..... است
ج) بهشش گیاهی مناطق گرم و خشک و در آن گیاهانی می رویند که در مقابل کم آبی مقاوم هستند
د) به شن و ماسه و گل ولایی که رودها همراه خود می برند..... می گویند

۷- به سوالات زیر پاسخ کوتاه دهید

الف) معمولا اشیاء و آثار تاریخی را کجانبه داری می کنند؟
ب) اولین گروه از آریایی ها که پس از ورود به ایران حکومت تشکیل دادند چه نام دارند؟
ج) تخت جمشید به فرمان چه کسی ساخته شد؟

۸- به سوالات زیر با دقت پاسخ دهید


الف) در مسجد معمولا چه کارهایی انجام و چه مراسمی برگزار می شود؟

ب) سه پایه ی اصلی دین زرتشت را نام ببرید؟

ج) جلگه چگونه به وجود می آید؟

د) نام ناحیه آب و هوایی هر تصویر را بنویسید.

جزوه سیپی



ه) روز جمعه مخصوص چه کارهایی هست؟

ی) چرا عید نوروز تعطیل است؟ در تعطیلات نوروزی مردم چه کارهایی انجام می دهند؟